

Ime i Prezime : _____


Datum : _____

matematika.



otroci.org

GEOMETRIJA

1. NACRTAJ OBLAK IZNAD STABLA, LIJEVO OD OBLAKA SUNCE, ISPOD SUNCA LEPTIRA, NA STABLU NEKOLIKO KRUŠAKA, LIJEVO OD STABLA OGRADU, NA OGRADI MACKU I DESNO OD STABLA LOPTU.



2. IZNAD OGRADE NACRTAJ VRATA.



3. NACRTAJ STOL I STOLICU. MIZA NEKA BUDE IZMEĐU STOLICA.